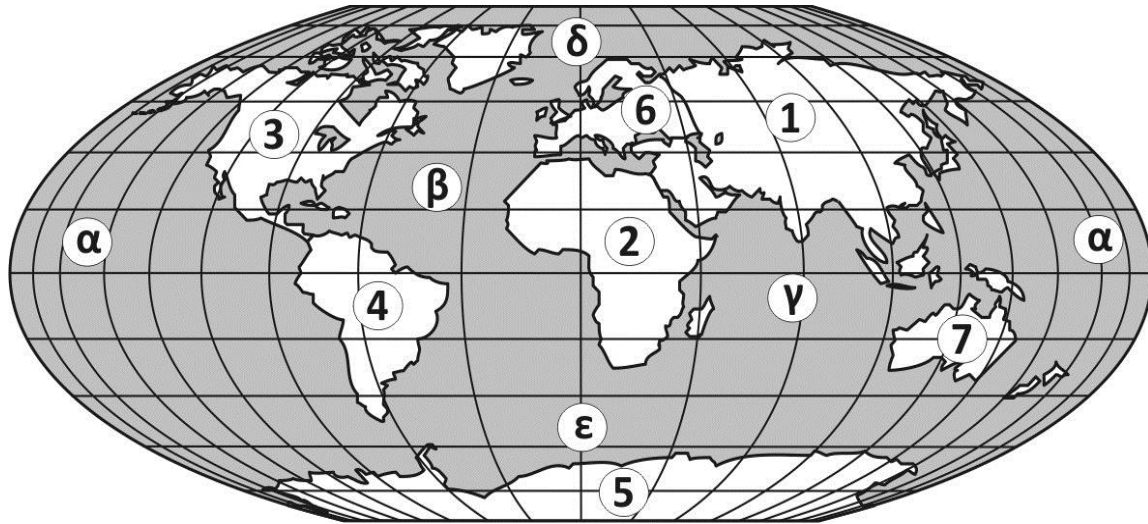


2. Πλανήτης Γη – Το σπίτι μας


2.3 Οι Ήπειροι και οι Ωκεανοί του πλανήτη μας



A. Γράψτε τα ονόματα των Ηπείρων και χρωματίστε με διαφορετικά χρώματα την κάθε μία ξεχωριστά

B. Γράψτε τα ονόματα των Ωκεανών του πλανήτη μας

Αριθμός	Ήπειροι	Ψηφίο	Ωκεανοί
1		α	
2		β	
3		γ	
4		δ	
5		ε	
6			
7			



Παιγνίδια με τον Άτλαντα (Προαιρετική εργασία για την τάξη ή το σπίτι)

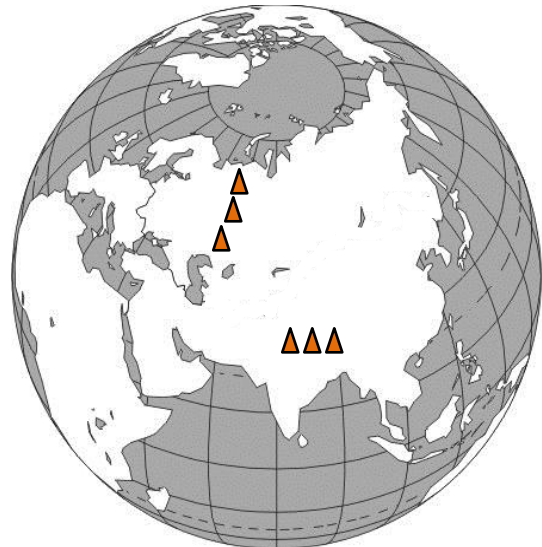
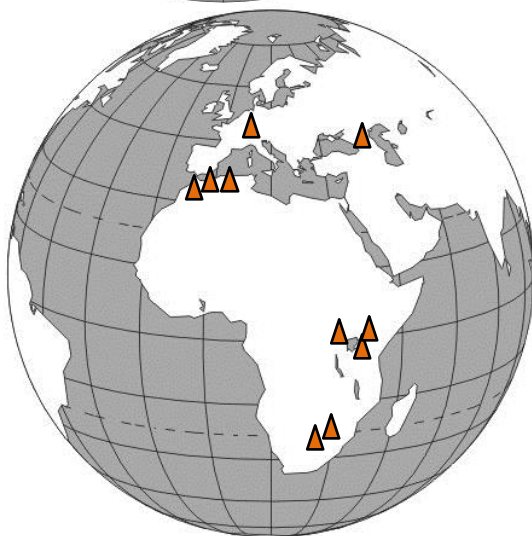
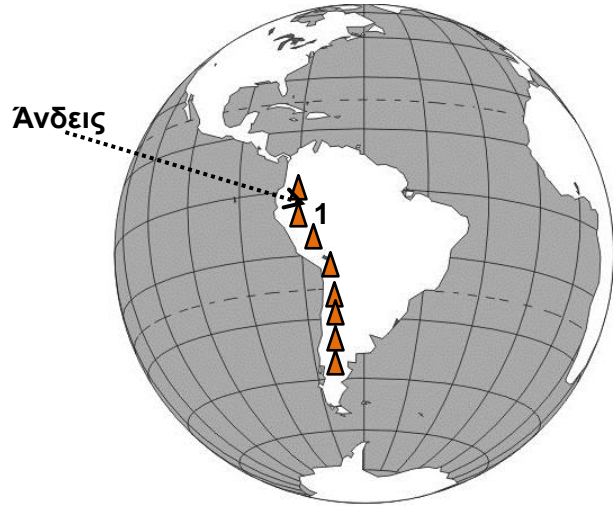
Θα χρειαστείτε τον Άτλαντά σας. Μπορείτε να εργαστείτε και σε ομάδες τεσσάρων, τουλάχιστον, μαθητών/μαθητριών.

1^ο Μέρος: Οι μεγάλες οροσειρές της γης

A. Με τη βοήθεια του Άτλαντά σας βρείτε και σημειώστε πάνω στις υδρόγειους σφαίρες που σας δίνονται πιο κάτω, τις μεγάλες οροσειρές της γης, με κόκκινη πέννα (σημειώστε τις με τον αριθμό που έχουν στην άσκηση όπως φαίνεται στο παράδειγμα).

B. Γράψτε δίπλα από κάθε οροσειρά την ήπειρο ή ηπείρους στην/στις οποίες βρίσκονται.

- | | |
|----------------------|------------------------|
| 1. Άνδεις | 6. Απαλάχια Όρη |
| 2. Ιμαλάια | 7. Καύκασος |
| 3. Άλπεις | 8. Ντράκενσπεργκ |
| 4. Βραχώδη Όρη | 9. Ουράλια Όρη |
| 5. Όρη Άτλας | 10. Ορ. Κένυα |



2° Μέρος: Μεγάλοι ποταμοί, θάλασσες και λίμνες της γης

A. Με τη βοήθεια του Άτλαντά σας βρείτε και σημειώστε, με μπλε πένα, πάνω στις υδρόγειους σφαίρες που σας δίνονται πιο κάτω, θάλασσες, μεγάλα ποτάμια και λίμνες της γης, (σημειώστε τα με τον αριθμό που έχουν στην άσκηση όπως φαίνεται στο παράδειγμα).

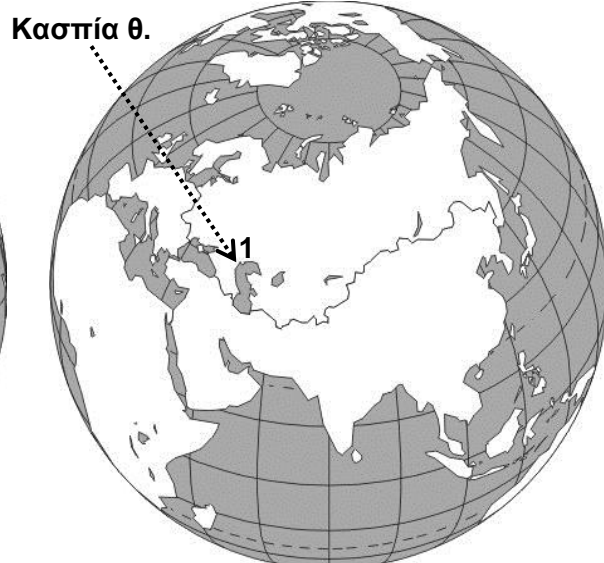
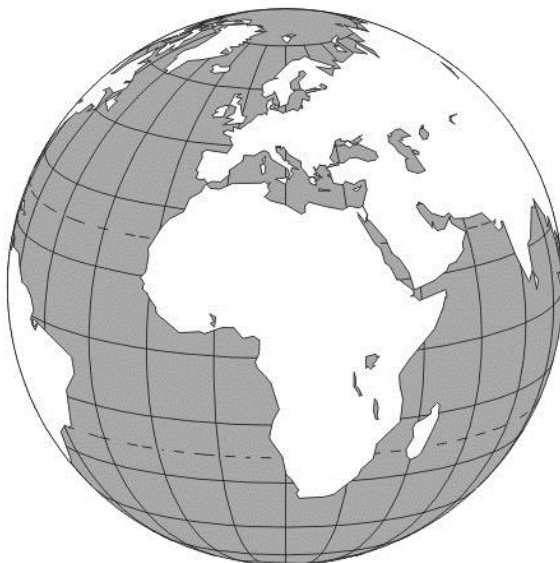
B. Γράψτε δίπλα από κάθε θάλασσα, λίμνη και ποταμό την ήπειρο ή ηπείρους στην/στις οποίες βρίσκονται.

ΘΑΛΑΣΣΕΣ

1. Κασπία θάλασσα
2. Μεσόγειος θάλασσα.....
3. Ερυθρά θάλασσα
4. Μαύρη θάλασσα
5. Καραϊβική θάλασσα

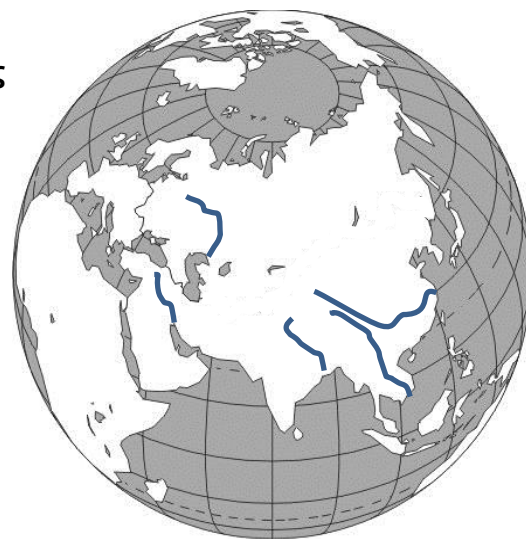
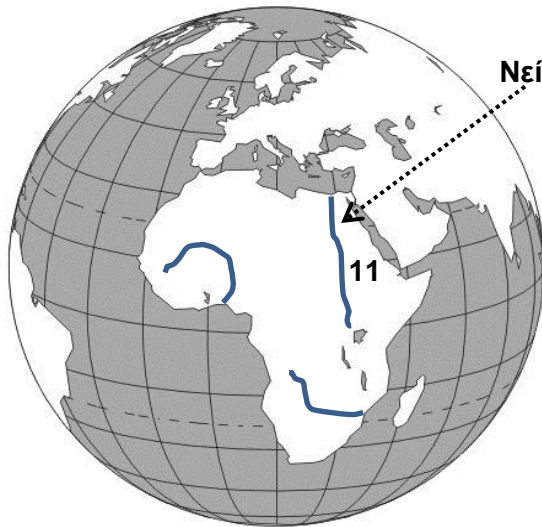
ΜΕΓΑΛΕΣ ΛΙΜΝΕΣ ΤΗΣ ΓΗΣ

6. Λ. Βικτώρια
7. Λ. Βαϊκάλη
8. Μεγάλες Λίμνες
9. Λ. Αράλη
10. Λ. Τανγκανίκα



ΜΕΓΑΛΑ ΠΟΤΑΜΙΑ ΤΗΣ ΓΗΣ

- | | |
|---------------------|----------------------|
| 11. Νείλος..... | 16. Ζαμβέζης |
| 12. Αμαζόνιος | 17. Τίγρης |
| 13. Βόλγας | 18. Γάγγης |
| 14. Μεκόνγκ | 19. Γιανγκ-Τσε |
| 15. Νίγηρας | 20. Μισισσιπής |



Γ. Προαιρετική άσκηση για το σπίτι

Ανοίξτε τον Άτλαντά σας και βρείτε σε ποια ήπειρο (ή ποιες ηπείρους) βρίσκεται η καθεμιά χώρα που αναφέρεται πιο κάτω:

- | | | |
|------------------|------------------------|--------------------|
| 1. Η.Π.Α.: | 4. Νέα Ζηλανδία: | 8. Χιλή: |
| 2. Μεξικό: | 5. Ιαπωνία: | 9 Φινλανδία: |
| 3. Ρωσία: | 6. Νιγηρία: | 10. Τουρκία: |
| | 7. Αλγερία: | |



Εργασία - Διαδρομές:

Δύο φίλοι αποφάσισαν να κάνουν μεγάλες διακοπές. Ξεκίνησαν από την Κύπρο για να πάνε στη Νέα Υόρκη μέσω Λονδίνου. Αφού έκαναν τα ψώνια τους, πήγαν στη Χαβάη για σέρφινγκ. Ακολούθως ταξίδεψαν στη Βραζιλία για να απολαύσουν ένα αγώνα ποδοσφαίρου στο μεγαλύτερο στάδιο της γης και μετά πέταξαν στο Γιοχάννεσμπουργκ για ένα αξέχαστο σαφάρι στη Σαβάννα.

1. Σε πόσες ηπείρους ταξίδεψαν οι δύο φίλοι και ποιες είναι αυτές;

.....

.....

2. Πόσες φορές διέσχισαν τον Ισημερινό;

3. Πόσα χιλιόμετρα ταξίδεψαν περίπου; (Η κλίμακα βρίσκεται πάνω στον παγκόσμιο χάρτη που σας δίνεται).

.....

4. Με τη βοήθεια του χάρτη και του Άτλαντα (σελίδες 72 και 73) να βρείτε τις γεωγραφικές συντεταγμένες των πόλεων που επισκέφτηκαν οι δύο φίλοι:

1. Λονδίνο: 2. Νέα Υόρκη:

3. Χαβάη: 4. Μπραζιλία:

5. Γιοχάννεσμπουργκ: 6. Κύπρος:

Λεξιλόγιο

Ήπειρος

Ο όρος **ήπειρος** αναφέρεται στις μεγάλες περιοχές ξηράς που περιστοιχίζονται από ωκεανούς και στις οποίες διαιρείται γεωγραφικά ο πλανήτης μας, η Γη.

Η λέξη ήπειρος (Λατινικά *continere*) σημαίνει "συγκρατώ μαζί". Οι δικές μας **ήπειροι** περιστοιχίζονται από ωκεανούς και αποδίδονται ως τα μεγάλα στεριανά (μη θαλάσσια) μέρη της επιφάνειας της Γης.



Από τη Βικιπαίδεια,
την ελεύθερη
εγκυκλοπαίδεια
**Αρχείο: Continents
vide couleurs.png**
Φεβρουάριος 2013

Ωκεανός

Αποκαλείται η πολύ μεγάλη θαλάσσια επιφάνεια. Ο όρος καθιερώθηκε, ιστορικά, από τον αρχαίο Έλληνα Ηρόδοτο και προέρχεται από τον ομώνυμο μυθικό θεό της Ελληνικής Μυθολογίας, τον Ωκεανό.

Οι ωκεανοί καλύπτουν σχεδόν τα τρία τέταρτα (71%) της επιφάνειας της γης και περιέχουν το 97% του νερού του πλανήτη μας. Το 90% των ηφαιστείων βρίσκονται στους ωκεανούς και τις θάλασσες της γης.

Οι ωκεανοί είναι πέντε:

- Ειρηνικός Ωκεανός
- Ατλαντικός Ωκεανός
- Ινδικός Ωκεανός
- Αρκτικός Ωκεανός ή Βόρειος Παγωμένος Ωκεανός και
- Ανταρκτικός Ωκεανός ή Νότιος Παγωμένος Ωκεανός



Από τη Βικιπαίδεια, την ελεύθερη εγκυκλοπαίδεια